











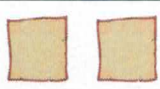
































# Wochenplan

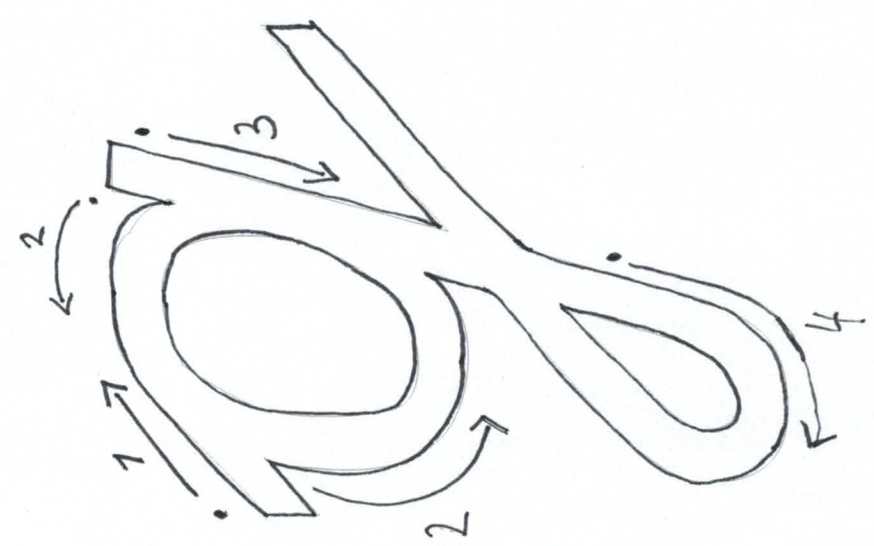

vom 30.11. bis 04.12.2020

		Name: _____		
Lernbereich	Was?	Aufgaben	Wie?	Fertig
 Deutsch		Lernwörter 5a (ÜH S. 30) + Sätze ins Wolkenheft schreiben		
		Gg und ß in Schreibschrift je 3 x nachspuren		
		Gg und ß ins Buchstabenheft		
		Lilo Übungsheft S. 30 Alle Aufgaben ins Buch schreiben.		
		Lilo Übungsheft S. 31/1,3+4 Alle Aufgaben ins blau-lila Heft.		
		Lilo Sprachbuch S. 19/4 - 5 Sätze wie im Buch / ins blau-lila Heft		
 Lesen		Leseheft Woche 13		
		Der erste Schnee Fragen dazu beantworten		
		Der Wettlauf Fragen dazu beantworten		
		Lesetext mit Aufgaben		
 Mathe		Plus und Minus mit Einern		
		S. 74, 75, 76+77		
 Computer		Videokonferenz am:		

## Mitteilungen:

Mathe S. 76+77: Bitte für die Konferenz aufheben. Kannst du nicht teilnehmen, mach die Aufgaben bitte alleine.

- Mathe S. 76+77 wird wieder bei der Videokonferenz gemacht.



Katja Falkensteiner 9/2008

<http://vs-material.wegeberer.at>





# Der erste Schnee

Name: \_\_\_\_\_ Klasse: \_\_\_\_\_ Datum: \_\_\_\_\_

*Lies den Text und beantworte anschließend die Fragen. Viel Erfolg!*

Max kniete auf dem Ohrensessel im Wohnzimmer und sah dabei aus dem Fenster. Draußen war es kalt. Sehr kalt. Die Bäume hatten keine Blätter mehr. Die Menschen auf der Straße hatten dicke Jacken an und warme Pudelmützen auf dem Kopf. Ein eisiger Wind wehte.

'Wann kommt denn endlich der Schnee?' fragte Max seine Mama, die in der Küche das Mittagessen kochte. Seine Mutter antwortete: 'Max, sing doch das Lied \*Schneeflöckchen, Weißröckchen\*, vielleicht fängt es ja dann an zu schneien, wenn du ganz viel Glück hast.' Max fing an zu singen:

'Schneeflöckchen, Weißröckchen, wann kommst du geschneit? Du kommst aus den Wolken, dein Weg ist so weit!' Das Lied hatte er im Kindergarten gelernt und konnte es schon auswendig. Max sang und sang.





Immer und immer wieder. Er wurde immer lauter. Und plötzlich fielen ganz vereinzelt tatsächlich weiße Flöckchen vom Himmel.

Erst nur hier und dort mal eine und dann immer mehr. Der Garten, die Straßen, die Bäume, alles war nach kürzester Zeit weiß. Nach dem Mittagessen zog Max seine dicken Winterstiefel an und ging in den Garten. Dort füllte er einen großen Becher mit Schnee und nahm ihn mit ins Haus. Den Becher stellte er in sein Kinderzimmer. Max war sich sicher: jetzt hatte er immer Schnee und musste nicht warten, bis es irgendwann einmal wieder schneit.

### **Fragen zu dem Text:**

1. Wo wartete Max auf den ersten Schnee?

---

2. Welches Lied sang Max, um den Schnee hervor zu locken?

---

3. Was wird mit dem Schnee im Becher geschehen?

---



# Der Wettlauf

Name: \_\_\_\_\_ Klasse: \_\_\_\_\_ Datum: \_\_\_\_\_

*Lies den Text und beantworte anschließend die Fragen. Viel Erfolg!*

Vor nicht allzu langer Zeit wollten meine Freunde Tim und Alex ihre Kräfte mit Hilfe eines Wettlaufes messen. Obwohl mir bewusst war, dass ich bei Weitem nicht so schnell wie Tim sein würde und nicht so viel Ausdauer besaß wie Alex, schloss ich mich diesem Vorhaben an.

Der Lauf sollte einmal um unseren Sportplatz herum gehen. Obwohl ich es nicht erwartet hatte, lagen wir bis kurz vor dem Ziel alle gleich auf. Ich freute mich schon, dass ich mich so gut gehalten hatte. Doch plötzlich bekam ich starke Seitenstiche. Ich konnte



kaum noch atmen und musste mich hinsetzen. Entgegen aller Erwartungen hielt Alex sofort an und half mir wieder auf die Beine. Tim dagegen lief schnell weiter ins Ziel und gewann so das Rennen.

Auch wenn Tim der offizielle Sieger dieses Wettlaufs geworden war, blieb Alex für mich der wahre Gewinner.



## Fragen zu dem Text:

1. Wer nahm alles am Wettlauf teil?

---

2. Wo fand der Wettlauf statt?

---

3. Warum musste ich mich hinsetzen?

---



# Lesetext mit Aufgaben

Name: \_\_\_\_\_ Klasse: \_\_\_\_\_ Datum: \_\_\_\_\_

Lies Dir den Text mehrmals sorgfältig durch und beantworte anschließend die Fragen.

## Der Schulweg

Julia macht sich morgens auf den Weg in die Schule. Sie fährt mit Ihrem Fahrrad von zu Hause aus los. An der ersten Kreuzung muss sie einen Zebrastreifen überqueren. Der Autobus hält an und lässt sie über die Straße. Auf dem Fahrradweg geht eine Frau spazieren. Julia muss die Fahrradklingel einsetzen, damit die Frau zur Seite geht. An der Ampel muss Julia kurz warten, weil die Ampel rot ist. Nun ist Julia in der Schule angekommen. Sie holt ihren Schlüsselbund raus und schließt ihr Fahrrad mit dem Fahrradschloss an. Jetzt kann der Unterricht starten.

## Aufgabe 1)

Unterstreiche die folgenden Wörter im Text rot:

*einsetzen, Ampel, Schule, Unterricht, überqueren, morgens, spazieren, warten, starten, fährt, schließt, kann, muss, Autobus, Kreuzung*

## Aufgabe 2)

In dem Text kommen zusammengesetzte Namenwörter vor. Kannst Du sie finden?

a) \_\_\_\_\_ b) \_\_\_\_\_ c) \_\_\_\_\_

d) \_\_\_\_\_ d) \_\_\_\_\_ f) \_\_\_\_\_

## Aufgabe 3)

In den Wörtern fehlen einige Buchstaben. Kannst Du die Wörter trotzdem erkennen?

a) Sc\_\_le                      b) Kr\_\_uz\_\_ng                      c) Am\_\_el

d) S\_\_raß\_\_                      d) Schl\_\_ssel\_\_und                      f) U\_\_terr\_\_cht



# Plus und Minus mit Einern

1

$64 + 3 =$ _____	$29 - 4 =$ _____	$12 + 7 =$ _____	$28 - 8 =$ _____
$43 + 5 =$ _____	$73 - 2 =$ _____	$95 + 5 =$ _____	$82 - 2 =$ _____
$34 + 5 =$ _____	$87 - 6 =$ _____	$54 + 4 =$ _____	$76 - 6 =$ _____
$72 + 6 =$ _____	$98 - 7 =$ _____	$45 + 5 =$ _____	$63 - 3 =$ _____

2

$34 + 2 =$ <span style="background-color: #f8d7da; padding: 2px;">  </span>	$67 - 2 =$ <span style="background-color: #f8d7da; padding: 2px;">  </span>	$25 + 4 =$ <span style="background-color: #f8d7da; padding: 2px;">  </span>	$78 - 6 =$ <span style="background-color: #f8d7da; padding: 2px;">  </span>
<span style="background-color: #f8d7da; padding: 2px;">  </span> $- 5 =$ <span style="background-color: #d1ecf1; padding: 2px;">  </span>	<span style="background-color: #f8d7da; padding: 2px;">  </span> $+ 4 =$ <span style="background-color: #d1ecf1; padding: 2px;">  </span>	<span style="background-color: #f8d7da; padding: 2px;">  </span> $- 6 =$ <span style="background-color: #d1ecf1; padding: 2px;">  </span>	<span style="background-color: #f8d7da; padding: 2px;">  </span> $+ 3 =$ <span style="background-color: #d1ecf1; padding: 2px;">  </span>
<span style="background-color: #d1ecf1; padding: 2px;">  </span> $+ 8 =$ <span style="background-color: #fff3cd; padding: 2px;">  </span>	<span style="background-color: #d1ecf1; padding: 2px;">  </span> $- 5 =$ <span style="background-color: #fff3cd; padding: 2px;">  </span>	<span style="background-color: #d1ecf1; padding: 2px;">  </span> $+ 2 =$ <span style="background-color: #fff3cd; padding: 2px;">  </span>	<span style="background-color: #d1ecf1; padding: 2px;">  </span> $+ 4 =$ <span style="background-color: #fff3cd; padding: 2px;">  </span>
<span style="background-color: #fff3cd; padding: 2px;">  </span> $- 6 =$ <span style="background-color: #d4edda; padding: 2px;">  </span>	<span style="background-color: #fff3cd; padding: 2px;">  </span> $+ 3 =$ <span style="background-color: #d4edda; padding: 2px;">  </span>	<span style="background-color: #fff3cd; padding: 2px;">  </span> $- 3 =$ <span style="background-color: #d4edda; padding: 2px;">  </span>	<span style="background-color: #fff3cd; padding: 2px;">  </span> $- 2 =$ <span style="background-color: #d4edda; padding: 2px;">  </span>
<span style="background-color: #d4edda; padding: 2px;">  </span> $+ 5 =$ <span style="background-color: #d1ecf1; padding: 2px;">  </span>	<span style="background-color: #d4edda; padding: 2px;">  </span> $- 6 =$ <span style="background-color: #d1ecf1; padding: 2px;">  </span>	<span style="background-color: #d4edda; padding: 2px;">  </span> $+ 7 =$ <span style="background-color: #d1ecf1; padding: 2px;">  </span>	<span style="background-color: #d4edda; padding: 2px;">  </span> $- 6 =$ <span style="background-color: #d1ecf1; padding: 2px;">  </span>
<span style="background-color: #d1ecf1; padding: 2px;">  </span> $- 3 =$ <span style="border: 1px solid black; padding: 2px;">35</span>	<span style="background-color: #d1ecf1; padding: 2px;">  </span> $+ 1 =$ <span style="border: 1px solid black; padding: 2px;">62</span>	<span style="background-color: #d1ecf1; padding: 2px;">  </span> $- 8 =$ <span style="border: 1px solid black; padding: 2px;">21</span>	<span style="background-color: #d1ecf1; padding: 2px;">  </span> $+ 9 =$ <span style="border: 1px solid black; padding: 2px;">80</span>



3 Welche Aufgabe passt zum Schluss?

$63 + 3 =$ _____	$38 - 7 =$ _____	$59 + 1 =$ _____	$45 - 4 =$ _____
$63 + 4 =$ _____	$38 - 6 =$ _____	$57 + 2 =$ _____	$46 - 5 =$ _____
$63 + 5 =$ _____	$38 - 5 =$ _____	$55 + 3 =$ _____	$47 - 6 =$ _____
$63 + 6 =$ _____	$38 - 4 =$ _____	$53 + 4 =$ _____	$48 - 7 =$ _____
_____ $+$ _____ $=$ _____	_____ $-$ _____ $=$ _____	_____ $+$ _____ $=$ _____	_____ $-$ _____ $=$ _____

4

<b>38</b>	<b>52</b>	<b>29</b>	<b>63</b>	<b>90</b>	<b>41</b>
34 +	57 -	28 +	65 -	84 +	43 -
35 +	54 -	24 +	68 -	87 +	46 -
32 +	59 -	29 +	64 -	80 +	49 -
31 +	56 -	21 +	69 -	+	-
30 +	58 -	26 +	67 -	+	-
36 +	55 -	22 +	63 -	+	-